


Pešiakové kombinácie (2.časť)

Na začiatku partie pešiak slúži najmä na obsadenie priestoru pre vlastné figúry a ich ochranu pred útokmi súpera. **Hodnota pešiaka sa zvyšuje priblížením partie k záveru hry – koncovke.**


Niekedy býva výhodné premeniť pešiaka aj na materiálnou hodnotou slabšiu figúru ako dámu. Najčastejšie je to jazdec, pretože ako jediný z figúr chodí inak ako najsilnejšia figúra – dáma. Ďalším dôvodom premeny pešiaka na inú figúru ako dámu môže byť nebezpečenstvo patu.

Pozícia č.1



1...Vf1+! 2.Vxf1 Dh2+!! 3.Kxh2 gxf1J+! 4.Kg2 Jxd2 s výhrou čierneho.


Pozícia č.2



Biely v ohrozenej pozícii našiel prekvapujúcu kombináciu. Ťahom **1.Dxh6+!!** uvoľňuje g-pešiakovi cestu k poľu premeny. **1...gxh6 2.g7+ Kh7 3.gxf8J+!** [ale nie 3.gxf8D? pre 3...Vh4#!] **3...Kh8 4.Vg8#**


Pozícia č.3

1.e4 e5 2.Jf3 Jc6 3.Sc4 Jf6 Okrem Talianskej hry, ktorá vzniká po 3...Sc5 môže čierny použiť aj druhú dobrú možnosť. Po protiútočnom ťahu **3...Jf6** vzniká **Hra dvoch jazdcov v obrane. 4.Jc3?!** Tento prirodzený vývinový ťah nie je v tejto pozícii najlepší kvôli často sa vyskytujúcej taktickému obratu. Lepšie sú ťahy **4.d4, 4.Jg5** alebo **4.d3**



4...Jxe4! 5.Jxe4 Lepší nie je ani pokus pripraviť čierneho kráľa o právo rošády po **5.Sxf7+ Kxf7 6.Jxe4 d5 7.Jeg5+ Kg8** a čierneho pešiakové centrum a dvojica strelcov sú viac ako dostatočnou náhradou za stratenú rošádu. Takto čierny prilákal dve biele figúry do pešiakového dvojúderu – vidličky a po **5...d5** získa obetovanú figúru s výhodou naspäť. **6.Sb5** [alebo **6.Sxd5 Dxd5**] **6...dxe4 7.Jxe5 Dd5 8.Jxc6 Dxb5** s malou výhodou čierneho, ktorý má lepší vývin a prevahu v centre a dvojicu strelcov.

Pozícia č.4




1.f4 f5 [1...Jc5 2.Jxc5 dxc5 3.f5 Sh5 4.g4 a biely získa strelca.; alebo 1...Jg7 2.f5 Sh5 3.g4+-]
2.g4! fxg4 [alebo 2...fxe4 3.f5] **3.f5!** so ziskom figúry.

Domáca úloha:

Muller – Junge,K

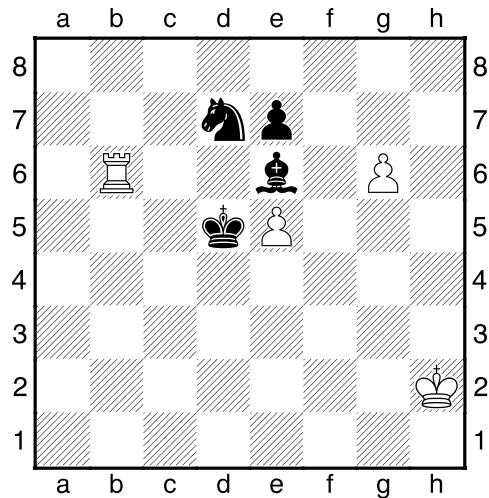
Lipsko, 1942



Čierny na ťahu.

Dokážete, podobne ako nemecký majster Junge uvoľniť cestu voľnému pešiakovi f3?

Pozícia č.5



Biely na ťahu.

Dokážete presadiť premenu jedného zo svojich pešiakov?